

Aviz Inspectoratul Școlar Județean Cluj

**1. Lista responsabilităților cu elaborarea, verificarea și aprobarea ediției sau, după caz, a reviziei în cadrul ediției procedurii de admitere în învățământul dual pentru calificări profesionale nivel 3, conform Cadrului național al calificărilor.**

	ELEMENTE PRIVIND RESPONSABILII/ OPERAȚIUNEA	NUMELE ȘI PRENUMELE	FUNCȚIA	DATA	SEMNĂTURA
	1	2	3	4	5
1.1	ELABORAT	Crețu Gabriel Mircea	Director adj.	07.02.2018	
1.2.	VERIFICAT	Consiliul de administrație	<i>Alu.</i>	08.02.2018	
1.3	APROBAT	Consiliul de administrație	<i>Alu.</i>	08.02.2018	<i>Crețu Gabriel</i>

**2. Situația edițiilor și a reviziilor în cadrul edițiilor procedurii de admitere**

	Ediția sau după caz, revizia în cadrul ediției	Componenta revizuită	Modalitatea reviziei	Data la care se aplică prevederile ediției sau reviziei ediției
	1	2	3	4
2.1	Ediția 1	2018		08.02.2018
2.2				
2.3				
2.4				
2.5				

**3. Domeniul de calificare:** mecanică

**4. Calificări:** mecanic auto, tinichigiu-vopsitor auto, operator la mașini cu comandă numerică.

admiterii în învățământul dual pentru calificări profesionale de nivel 3, conform Cadrului național al calificărilor – anexa 1 la OMEN nr. 3556/29.03.2017, publicat în Monitorul Oficial nr. 231/04.04.2017.

**6. Contextul legislativ de elaborare a procedurii:** procedura este elaborată conform OUG 117 din 23.12.2013 și a Legii educației nr. 1 din 2011, în temeiul OMEN nr. 3556 din 29.03.2017 privind organizarea și desfășurarea admiterii în învățământul dual pentru calificări profesionale de nivel 3, conform Cadrului național al calificărilor și OMEN nr. 4795 din 31.08.2017 privind Calendarul admiterii în învățământul dual pentru calificări profesionale de nivel 3, conform Cadrului național al calificărilor pentru anul școlar 2018-2019.

### **7. Descrierea procedurii:**

#### **Art. 1**

Perioadele de înscriere, prevăzute în Calendarul admiterii în învățământul dual pentru calificări profesionale de nivel 3, conform Cadrului național al calificărilor pentru anul școlar 2018-2019, Anexa la OMEN nr.4795 din 31.08.2017, sunt:

- 15, 18, 19, iunie 2018 și 21-22 iunie 2018; prima etapă
- 31 august-3 septembrie 2018, a doua etapă, în cazul în care în etapa anterioară nu s-au ocupat toate locurile oferite de școală

#### **Art. 2**

**Dacă numărul de candidați este mai mare decât numărul de locuri oferite de școală, se organizează o probă suplimentară de admitere.**

Rezultatul probei de admitere reprezintă 30% din media de admitere la învățământul dual. Ponderele de 70% din media de admitere reprezintă media ponderată calculată conform art. 10, lit.a, capitolul IV din anexa la OMEN 3556 din 29.03.2017, între media generală de la evaluarea națională (80%) și media generală de absolvire a claselor a V-a – a VIII-a (20%).

Media de admitere se calculează cu două zecimale, fără rotunjire, astfel:

$$\text{MAID} = (70 \cdot \text{MA} + 30 \cdot \text{PSA}) / 100$$

$$\text{unde MA} = (20 \cdot \text{ABS} + 80 \cdot \text{EN}) / 100$$

unde MAID este media de admitere în învățământul dual, MA este media de admitere, PSA este media notelor la probele de admitere stabilite de unitatea de învățământ în colaborare cu operatorii economici parteneri, ABS este media generală de absolvire a claselor a V-a – a VIII-a, iar EN este media generală obținută la evaluarea națională.

În cazul în care 2 candidați au medii de admitere egale, aceștia vor fi departajați folosind, în ordine, următoarele criterii:

- a) media probelor de admitere
- b) media generală obținută la Evaluarea națională din clasa a VIII-a
- c) media generală de absolvire a claselor a V-a – a VIII-a.

Dacă departajarea în acest caz nu poate fi făcută din motive de medii egale, atunci candidații sunt declarați amândoi admiși.

În funcție de media de admitere în învățământul dual (MAID), candidații vor fi admiși pe locurile disponibile în ordinea descrescătoare a punctajelor.



**Art. 3**

Probele de admitere se desfășoară în unitatea de învățământ, când este cazul, într-una din etapele prevăzute pentru admitere în *Calendarul admiterii*, Anexa la OMEN nr. 4795 din 31.08.2017, astfel:

**▪ Etapa 1**

15, 18, 19 iunie 2018 și 21-22 iunie 2018 - înscrierea candidaților

25-29 iunie 2018 – desfășurarea probelor de admitere conform unui grafic afișat

29 iunie 2018 – afișarea rezultatelor și depunerea contestațiilor

2 iulie 2018 – afișarea rezultatelor finale ale probei suplimentare de admitere

**▪ Etapa 2**

31 august-3 septembrie 2018 - înscrierea candidaților, dacă au rămas locuri libere în urma etapei 1

4-6 septembrie 2018 – desfășurarea probelor de admitere conform unui grafic afișat

6 septembrie 2018 – afișarea listelor cu candidații admiși și a celor respinși și depunerea contestațiilor

6 septembrie 2018 – afișarea rezultatelor în urma contestațiilor

**Art. 4**

Proba de admitere constă într-o probă scrisă din disciplina *Educație tehnologică* din planul cadru al clasei a VIII-a.

**Art. 5**

Modele de subiecte precum și criteriile de evaluare pentru proba de admitere sunt prezentate în Anexa 1 la procedură.

**Anexa 1** la Procedura de admitere în învățământul dual pentru calificări profesionale nivel 3, conform Cadrului național al calificărilor

**Tipuri de subiecte pentru proba scrisă**









**PROBA DE ADMITERE - model de subiect**

**Clasa a IX-a**  
învățământ dual

- Toate subiectele sunt obligatorii
  - Timpul de lucru este de 50 minute
- I. În coloana A sunt enumerate câteva domenii profesionale, iar în coloana B, calificări profesionale specifice acestora. Scrieți pe foaia de concurs, asocierile dintre cifrele din coloana A și literele corespunzătoare din coloana B. (5x0,5p=2,5p)

Coloana A	Coloana B
1. mecanică	a. electrician
2. agricultură	b. ospătar
3. estetica și igiena corpului omenesc	c. zidar
4. electric	d. mecanic auto
5. turism și alimentație	e. coafor-stilist
	f. apicultor

- II. Scrieți pe foaia de concurs litera corespunzătoare răspunsului corect: (3X0,5 p=1,5p)
1. Cu burghiul se execută operația de:
    - a) filetare,
    - b) găurire,
    - c) sudare.
  2. Un mecanic auto folosește următoarele echipamente(scule) de lucru:
    - a) trusă set chei, tester de diagnoză,
    - b) echipament pentru stingerea incendiilor,
    - c) aparat de sudură..
  3. Materialul folosit pentru reducerea frecării într-un angrenaj cu roți dințate este:
    - a) diluantul,
    - b) apa,
    - c) uleiul.
- III. Imaginile din colana A prezintă echipamente individuale de protecție pentru diferite părți ale corpului, iar în coloana B părți ale corpului uman. Asociați cifrele din colana A cu litera corespunzătoare din colana B.

1.		A. Protecția mâinii
2.		B. Protecția corpului
3.		C. Protecție respiratorie
4.		D. Protecția corpului
5.		E. Protecția capului
6.		F. Protecția genunchiului
7.		G. Protecția ochilor
8.		H. Protecția piciorului

**BAREM PROBA DE ADMITERE - model de subiect 1**

**Clasa a IX-a**

**Învățământ dual**

I. Se acordă câte 0,5 puncte pentru fiecare răspuns corect:

1-d 2-f 3-e 4-a 5-b

II. Se acordă câte 0,5 puncte pentru fiecare răspuns corect:

1-b 2-a 3-c

III. Se acordă câte 0,5 puncte pentru fiecare răspuns corect:

1-E 2-G 3-H 4-F 5-A 6-B 7-C 8-D

Se acordă 2 puncte din oficiu.